

## Контрольная работа по теме «Южные материки»

### ВАРИАНТ 1.

#### I. Ответьте коротко на вопросы:

1. На скольких литосферных плитах находится материк Африка?
2. Почему для восточной Африки характерны вулканы?
3. Самое крупное из высокогорных озёр мира.
4. Хищная рыба в Амазонке.
5. Самое крупное озеро в Австралии.
6. Крупный полуостров Антарктиды.

#### II. Выполните тест:

1. Австралия омывается океанами...
  - 1) Тихим и Индийским
  - 2) Атлантическим и Тихим
  - 3) Индийским и Атлантическим
  - 4) Тихим и Северно-Ледовитым
2. Почему Африка самый жаркий материк Земли?
  - 1) Большая часть Африки находится между тропиками
  - 2) Африку омывает тёплый Индийский океан
  - 3) Здесь расположена крупнейшая пустыня мира
  - 4) Здесь зарождаются раскалённые ветры – песчаные ураганы – самум
3. Коренное население Южной Америки - это:
  - 1) индейцы
  - 2) мулаты
  - 3) негры
  - 4) метисы
4. Древней Австралийской платформе в рельефе соответствуют...
  - 1) Большой Водораздельный хребет и Центральная низменность
  - 2) Центральная низменность и Западно-Австралийское плоскогорье
  - 3) Большой Барьерный риф и Большой Водораздельный хребет
  - 4) Западно-Австралийское плоскогорье и Большой Водораздельный хребет
5. Антарктида принадлежит:
  - 1) России
  - 2) США
  - 3) не принадлежит никому
  - 4) Великобритании

#### III. Вставьте пропущенные слова в текст:

Африку почти посередине пересекает ... и поэтому она находится в ... полушариях  
Африку нулевой меридиан пересекает в ... части и она расположена в ... и ... полушариях. В Африке тепло, потому что она лежит между двумя ...  
Материк расположен в ... климатических поясах ..., ..., ..., ...  
Африку омывает ... океана. Один Индийский с востока и ... с запада. Африка удалена от всех материков, кроме ...

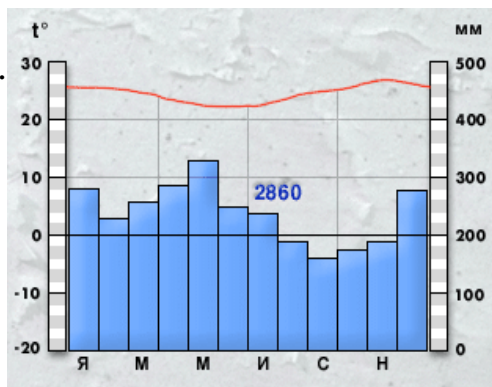
#### IV. Проанализируйте климатограмму.

#### Определите тип климата Ю. Америки.

#### V. Дайте описание страны Бразилия

#### по плану:

1. В какой части материка расположена название ее столица?
2. Особенности рельефа. Полезные ископаемые страны.
3. Климатические условия.
4. Крупные реки и озера.
5. Природные зоны и их особенности.
6. Народы, населяющие страну. Их основные занятия.



## Контрольная работа по теме «Южные материки»

### ВАРИАНТ 2.

#### I. Ответьте коротко на вопросы:

1. Крайняя северная точка Африки?
2. Самые низкорослые люди в Африке?
3. Крупная горная система Южной Америки.
4. Крайняя восточная точка Южной Америки.
5. Самая большая горная система Австралии.
6. Толщина льда на материка Антарктида.

#### II. Выполните тест:

1. Любая из точек Австралии имеет...
  - 1) северную широту и восточную долготу
  - 2) северную широту и западную долготу
  - 3) южную широту и восточную долготу
  - 4) южную широту и западную долготу
2. К бассейну какого океана относится река Нил:
  - 1) Индийского
  - 2) Северо-Ледовитого
  - 3) Тихого
  - 4) Атлантического
3. Какие факторы способствуют образованию тёплого влажного климата на равнинной части материка?
  - 1) географическое положение
  - 2) рельеф материка
  - 3) конфигурация материка
  - 4) господствующие ветры - пассаты
4. Какие утверждения верны?
  - 1) Мыс Гальинас и мыс Париньяс - крайние точки Южной Америки.
  - 2) Мыс Йорк, мыс Байрон - крайние точки Австралии:
    - а) оба верны;
    - б) 1-неверно, 2- верно;
    - в) 1-верно, 2 - неверно;
    - г) оба неверны.
5. Какая река дважды пересекает экватор:
  - 1) Амазонка;
  - 2) Конго;
  - 3) Муррей;
  - 4) Нил.

#### III. Укажите номера утверждений, относящихся к материка Южная Америка.

- 1) Материк пересекает экватор.
- 2) В рельефе преобладают равнины.
- 3) Материк расположен в Западном полушарии.
- 4) Мощная горная цепь протянулась вдоль побережья материка.
- 5) Материк граничит с большим участком суши.
- 6) Омывается Атлантическим океаном.
- 7) Все климатические пояса на материке повторяются дважды по обе стороны экватора.
- 8) Материк пересекает умеренный климатический пояс.
- 9) Материк самый жаркий из всех материков земли.
- 10) Материк заслужил название самого влажного материка земли.

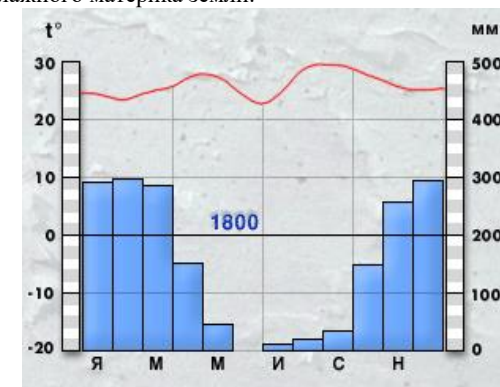
#### IV. Проанализируйте климатограмму.

#### Определите тип климата Ю. Америки.

#### V. Дайте описание страны Конго

#### по плану:

1. В какой части материка расположена название ее столица?
2. Особенности рельефа. Полезные ископаемые страны.
3. Климатические условия.
4. Крупные реки и озера.
5. Природные зоны и их особенности.
6. Народы, населяющие страну. Их основные занятия.



## Контрольная работа по теме «Южные материки» ВАРИАНТ 3.

### I. Ответьте коротко на вопросы:

1. Пролив между Африкой и Евразией?
2. Растительность богата в Сахаре только в ...?
3. Крайняя западная точка Южной Америки.
4. Пролив, отделяющий Южную Америку от архипелага Огненная Земля.
5. Крупные реки Австралии.
6. Путешественник, первым дошедший до Южного полюса.

### II. Выполните тест:

1. Практически по середине Австралия пересекается...
  - 1) экватором
  - 2) южным полярным кругом
  - 3) южным тропиком
  - 4) нулевым меридианом
2. Крупнейшие оазисы Африки находятся:
  - 1) в Сахаре
  - 2) на о. Мадагаскар
  - 3) в бассейне реки Конго
  - 4) на Эфиопском нагорье
3. В Южной Америке находится величайшая равнина земного шара:
  - 1) Лаплатская низменность
  - 2) Бразильское плоскогорье
  - 3) Амазонская низменность
  - 4) плато Колорадо.
4. Установите соответствие:  
*Природные зоны:*
  - 1) Пустыня
  - 2) Саванна
  - 3) Влажный лес*Климатический пояс:*
  - А. экваториальный
  - Б. тропический
  - В. субтропический
5. Самая полноводная река на Земле - это:
  - 1) Парана;
  - 2) Амазонка;
  - 3) Ориноко;
  - 4) Риу-Негру.

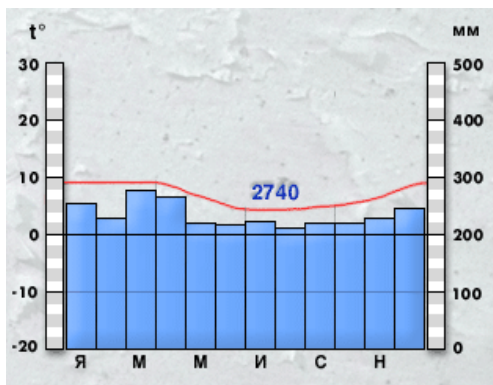
### III. Вставьте пропущенные слова в текст:

Африку почти посередине пересекает ... и поэтому она находится в ... полушариях  
Африку нулевой меридиан пересекает в ... части и она расположена в ... и ... полушариях. В Африке тепло, потому что она лежит между двумя ...  
Материк расположен в ... климатических поясах ..., ..., ..., ...  
Африку омывает ... океана. Один Индийский с востока и ... с запада. Африка удалена от всех материков, кроме ...

### IV. Проанализируйте климатограмму. Определите тип климата Ю. Америки.

### V. Дайте описание страны Ливия по плану:

1. В какой части материка расположена название ее столица?
2. Особенности рельефа. Полезные ископаемые страны.
3. Климатические условия.
4. Крупные реки и озера.
5. Природные зоны и их особенности.
6. Народы, населяющие страну. Их основные занятия.



## Контрольная работа по теме «Южные материки» ВАРИАНТ 4.

### I. Ответьте коротко на вопросы:

1. Океан, омывающий Африку с запада?
2. Крайняя южная точка Африки?
3. Действующий вулкан в Андах.
4. Самая полноводная река на планете.
5. На севере Австралия омывается ... морем.
6. Южный полюс холода располагается близ ....

### II. Выполните тест:

1. Север Австралии занимает климатический пояс...
  - 1) субэкваториальный
  - 2) арктический
  - 3) тропический
  - 4) субтропический
2. Самый низкорослый народ на Земле живущий в Африке:
  - 1) бушмены
  - 2) пигмеи
  - 3) эфиопы
  - 4) Берберы
3. К бассейну какого океана относится река Амазонка?
  - 1) Тихого
  - 2) Атлантического
  - 3) Индийского
  - 4) она не впадает в океан
4. Какое высказывание верно?
  - 1) В Южной Америке экваториальный лес называют «сельва».
  - 2) Зону степей Южной Америки называют «пампа»:
    - а) оба неверны;
    - б) 1 - верно, 2 - неверно;
    - в) 1 - неверно, 2 - верно;
    - г) оба верны.
5. Кто открыл Антарктиду?
  - 1) Д. Кук;
  - 2) Ф. Ф. Беллинсгаузен, М. П. Лазарев;
  - 3) Р. Амундсен, Р. Скотт;
  - 4) М. М. Сомов, А. Ф. Трешников.

### III. Укажите номера утверждений, относящихся к материка Южная Америка.

- 1) Материк пересекает экватор.
- 2) В рельефе преобладают равнины.
- 3) Материк расположен в Западном полушарии.
- 4) Мощная горная цепь протянулась вдоль побережья материка.
- 5) Материк граничит с большим участком суши.
- 6) Омывается Атлантическим океаном.
- 7) Все климатические пояса на материке повторяются дважды по обе стороны экватора.
- 8) Материк пересекает умеренный климатический пояс.
- 9) Материк самый жаркий из всех материков земли.
- 10) Материк заслужил название самого влажного материка земли.

### IV. Проанализируйте климатограмму. Определите тип климата Ю. Америки.

### V. Дайте описание страны Аргентина по плану:

1. В какой части материка расположена название ее столица?
2. Особенности рельефа. Полезные ископаемые страны.
3. Климатические условия.
4. Крупные реки и озера.
5. Природные зоны и их особенности.
6. Народы, населяющие страну. Их основные занятия.

